

Thứ ba ngày 19 tháng 11 năm 2024

*Số 1*

**BÀI 22**

**PHÉP CỘNG CÁC SỐ  
CÓ NHIỀU CHỮ SỐ**



# KHỞI ĐỘNG




# KHO BẢO ĐẠI DƯƠNG

START



# Treasure hunt



Câu 1: 3 thế kỷ = ..... năm

300 năm



Câu 2: 4 phút 30 giây = .....giây

**270 giây**



Câu 3: 600 năm = ..... thế kỷ

6



Thứ ba ngày 14 tháng 11 năm 2023

*Số 1*

**BÀI 22**

**PHÉP CỘNG CÁC SỐ  
CÓ NHIỀU CHỮ SỐ**



# *Yêu cầu cần đạt*

1

Thực hiện được các phép cộng các số tự nhiên có nhiều chữ số (có nhớ không quá ba lượt và không liên tiếp).

2

Giải quyết được một số vấn đề gắn với việc giải các bài toán có đến hai hoặc ba bước tính (trong phạm vi các số và phép tính đã học).





**KHÁM PHÁ**



## Khám phá

Ngày thứ nhất trang trại thu được 180 510 / sữa. Ngày thứ hai, trang trại thu được 210 365 / sữa.

Cả hai ngày trang trại thu được bao nhiêu lít sữa nhỉ?



$$180\ 510 + 210\ 365 = ?$$



Khám phá

$$180\ 510 + 210\ 365 = ?$$

a)

Thứ tự  
tương tự  
như phép  
cộng đã  
học

$$\begin{array}{r} 180\ 510 \\ + 210\ 365 \\ \hline 390\ 875 \end{array}$$

- 0 cộng 5 bằng 5, viết 5
- 1 cộng 6 bằng 7, viết 7
- 5 cộng 3 bằng 8, viết 8
- 0 cộng 0 bằng 0, viết 0
- 8 cộng 1 bằng 9, viết 9
- 1 cộng 2 bằng 3, viết 3



$$180\ 510 + 210\ 365 = 390\ 875$$



Khám phá

$$327\ 456 + 190\ 835 = ?$$

b)

$$\begin{array}{r} + 327\ 456 \\ 190\ 835 \\ \hline 518\ 291 \end{array}$$

- 6 cộng 5 bằng 11, viết 1 nhớ 1
- 5 thêm 1 bằng 6; 6 cộng 3 bằng 9, viết 9.
- 4 cộng 8 bằng 12, viết 2 nhớ 1.
- 7 thêm 1 bằng 8; 8 cộng 0 bằng 8, viết 8
- 2 cộng 9 bằng 11, viết 1 nhớ 1.
- 3 thêm 1 bằng 4, 4 cộng 1 bằng 5, viết 5.

$$327\ 456 + 190\ 835 = 518\ 291$$

# HOẠT ĐỘNG



1


Kết quả của phép tính ghi trên mỗi chiếc xô là số mi-li-lít sữa bò được chứa trong chiếc xô đó.



A bucket with a handle. On its side, there is a vertical addition problem. The numbers are 11 000, 3 000, and 14 000. The plus sign is to the left of the second number. A horizontal line is drawn under the second number. The result 14 000 is written in red below the line.

$$\begin{array}{r} 11\ 000 \\ +\ 3\ 000 \\ \hline 14\ 000 \end{array}$$

A

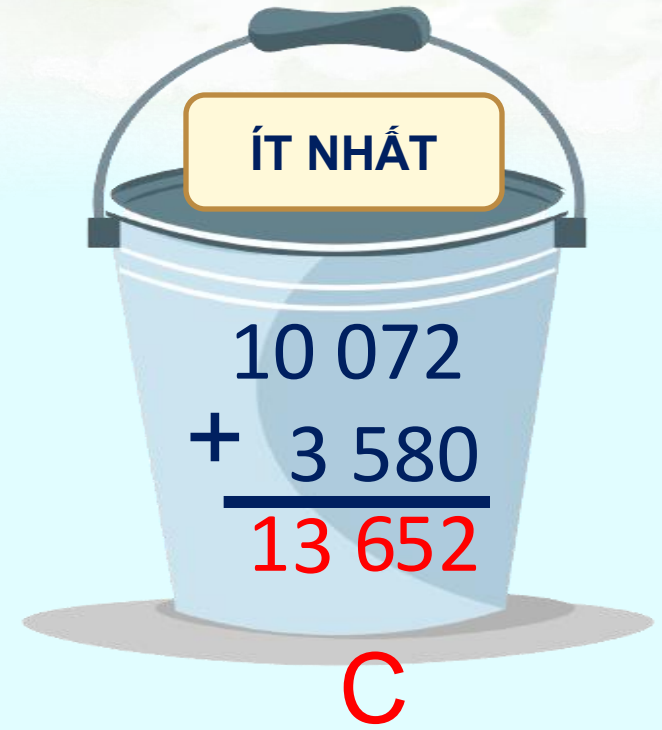


A bucket with a handle. A yellow label with the text "NHIỀU NHẤT" is attached to the handle. On the side of the bucket, there is a vertical addition problem. The numbers are 9 360, 5 450, and 14 810. The plus sign is to the left of the second number. A horizontal line is drawn under the second number. The result 14 810 is written in red below the line.

NHIỀU NHẤT

$$\begin{array}{r} 9\ 360 \\ +\ 5\ 450 \\ \hline 14\ 810 \end{array}$$

B



A bucket with a handle. A yellow label with the text "ÍT NHẤT" is attached to the handle. On the side of the bucket, there is a vertical addition problem. The numbers are 10 072, 3 580, and 13 652. The plus sign is to the left of the second number. A horizontal line is drawn under the second number. The result 13 652 is written in red below the line.

ÍT NHẤT

$$\begin{array}{r} 10\ 072 \\ +\ 3\ 580 \\ \hline 13\ 652 \end{array}$$

C

Xô nào chứa nhiều sữa bò nhất? Xô nào chứa ít sữa bò nhất?

2

## Đặt tính rồi tính.

$$3\ 246 + 4\ 721$$

$$139\ 820 + 240\ 134$$

$$47\ 282 + 2\ 514$$

$$482\ 824 + 420\ 546$$

$$3\ 246 + 4\ 721$$

$$\begin{array}{r} 3\ 246 \\ +\ 4\ 721 \\ \hline 7\ 967 \end{array}$$

$$47\ 282 + 2\ 514$$

$$\begin{array}{r} 47\ 282 \\ + 2\ 514 \\ \hline 49\ 796 \end{array}$$

$$139\ 820 + 240\ 134$$

$$\begin{array}{r} 139\ 820 \\ + 240\ 134 \\ \hline 379\ 954 \end{array}$$

$$482\ 824 + 420\ 546$$

$$\begin{array}{r} 482\ 824 \\ + 420\ 546 \\ \hline 903\ 370 \end{array}$$

3

Trong 1 phút, vệ tinh màu xanh bay được quãng đường dài 474 000 m, vệ tinh màu đỏ bay được quãng đường dài hơn vệ tinh màu xanh là 201 km. Hỏi trong 1 phút, vệ tinh màu đỏ bay được quãng đường dài bao nhiêu mét?

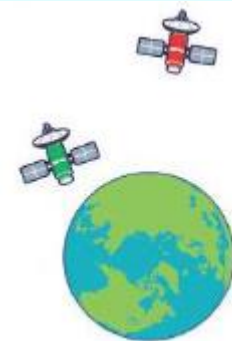
### Bài giải

**Đổi:  $201 \text{ km} = 201\,000 \text{ m}$**

**Trong một phút, vệ tinh màu đỏ bay được quãng đường là:**

$$474\,000 + 201\,000 = 675\,000 \text{ (m)}$$

**Đáp số: 675 000 mét.**





# DẶn dồ

# TẠM BIỆT CÁC EM

